

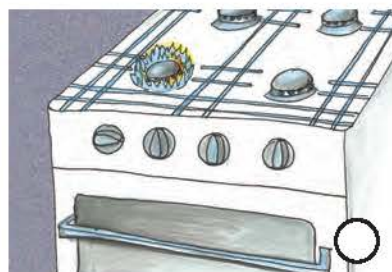


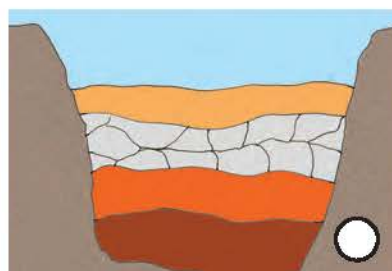
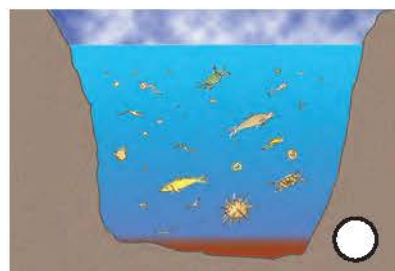


## ΦΕ9: ΦΥΣΙΚΟ ΑΕΡΙΟ - ΕΝΑ ΠΟΛΥΤΙΜΟ ΑΕΡΙΟ



Η εισαγωγή του φυσικού αερίου στη χώρα μας άρχισε το 1996. Όλο και περισσότερα σπίτια συνδέονται στο δίκτυο διανομής του. Πώς δημιουργείται όμως το φυσικό αέριο και πώς φτάνει στα σπίτια μας;

Παρατήρησε τις εικόνες και συζήτησε με τους συμμαθητές και τις συμμαθήτριές σου για την προέλευση του φυσικού αερίου καθώς και για τη διαδικασία επεξεργασίας και διανομής του. Τοποθέτησε τις εικόνες στη σωστή σειρά σημειώνοντας αριθμούς στους κύκλους.





### Συμπέρασμα

---



---



---



### ΕΡΓΑΣΙΕΣ ΓΙΑ ΤΟ ΣΠΙΤΙ

1. Η κατασκευή του δικτύου διανομής του φυσικού αερίου είναι ιδιαίτερα δύσκολη και δαπανηρή. Μπορείς να αναφέρεις μερικές από τις δυσκολίες της κατασκευής του δικτύου υπογείων αγωγών για τη μεταφορά και τη διανομή του φυσικού αερίου στις πόλεις;

---

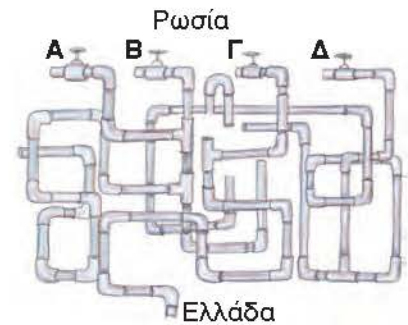


---



---

2. Ποιος από τους 4 αγωγούς Α, Β, Γ και Δ φυσικού αερίου είναι εκείνος που ενώνει τη Ρωσία με την Ελλάδα;




---



---



---

3. Στην εικόνα βλέπεις τους σωλήνες, που συνδέουν το δίκτυο διανομής με τις διάφορες συσκευές ενός σπιτιού. Μπορείς να εξηγήσεις τη χρησιμότητα της συσκευής που βρίσκεται έξω από το σπίτι; Υπάρχει αντίστοιχη συσκευή στο δίκτυο παροχής ηλεκτρικής ενέργειας;




---



---



---