



ΦΕ2: ΤΑ ΔΟΝΤΙΑ ΜΑΣ - Η ΑΡΧΗ ΤΟΥ ΤΑΞΙΔΙΟΥ ΤΗΣ ΤΡΟΦΗΣ



Ένα «αστραφτερό» χαμόγελο μάς φέρνει πιο κοντά με τους άλλους ανθρώπους. Εκτός από ένα όμορφο χαμόγελο, σε τι άλλο χρησιμεύουν όμως τα δόντια;



Πείραμα

0 1 2 3 4 5 6 7 8 9 10 11 12 13 14



Όργανα - Υλικά
μικρό καθρεπτάκι

Παρατήρησε προσεκτικά και μέτρησε τα δόντια σου χρησιμοποιώντας το καθρεπτάκι.

- ◆ Πόσα δόντια μέτρησες στην επάνω και πόσα στην κάτω σιαγόνα;
- ◆ Είναι ίδια τα δόντια στην επάνω και στην κάτω σιαγόνα;
- ◆ Ποιες διαφορές παρατήρησες ανάμεσα στα δόντια που βρίσκονται στο μπροστινό και σε αυτά που βρίσκονται στο πίσω μέρος της σιαγόνας;



Παρατήρηση

- ◆ _____
- ◆ _____
- ◆ _____




0 1 2 3 4 5 6 7 8 9 10 11 12 13 14

Πείραμα

Δάγκωσε ένα μήλο και μάσησέ το. Με ποια δόντια κόβεις ή σκίζεις την τροφή; Με ποια τη μασάς;



Παρατήρηση



Παρατήρησε προσεκτικά τα δόντια στον παρακάτω πίνακα. Ποια είναι πλατιά με μεγάλη επιφάνεια, ποια είναι πλατιά με μικρή επιφάνεια και ποια είναι μυτερά; Με ποια δόντια κόβουμε και με ποια σκίζουμε τις τροφές; Με ποια τις μασάμε;

ΔΟΝΤΙΑ	ΟΝΟΜΑΣΙΑ	ΠΕΡΙΓΡΑΦΗ	ΧΡΗΣΙΜΟΤΗΤΑ
			
			
			
			

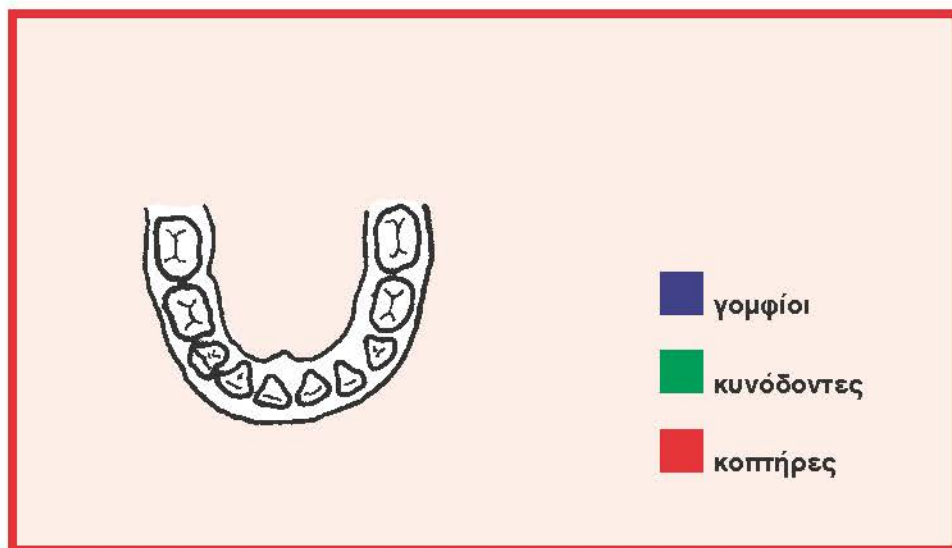





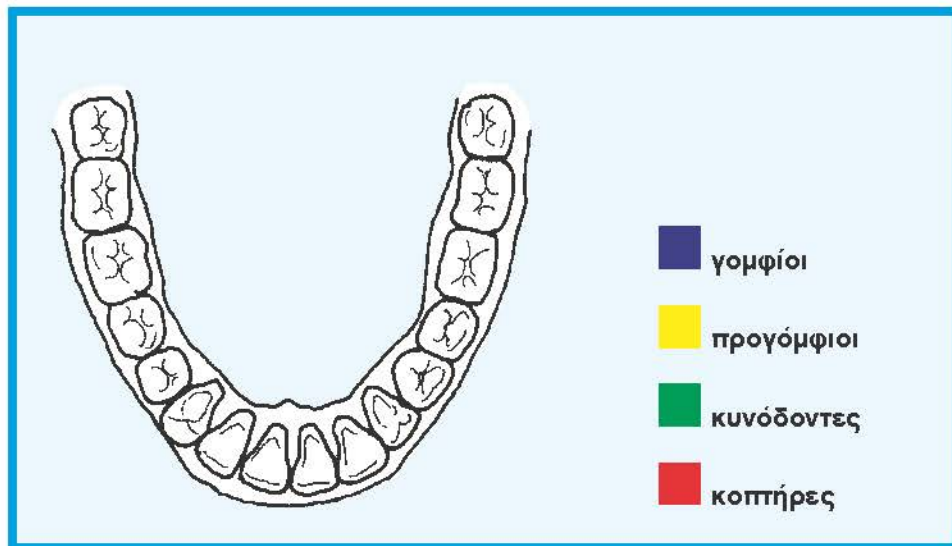
Τα πρώτα δόντια που έχει ένα παιδί ονομάζονται **νεογιλά**. Περίπου στην ηλικία των έξι χρόνων τα νεογιλά δόντια αρχίζουν να πέφτουν. Στη θέση τους βγαίνουν τα **μόνιμα** δόντια.

Με τη βοήθεια της δασκάλας ή του δασκάλου σου χρωμάτισε στις παρακάτω εικόνες τους **κοπήρες** με κόκκινο χρώμα, τους **κυνόδοντες** με πράσινο, τους **προγόμφιους** με κίτρινο και τους **γομφίους** με μπλε.

νεογιλά δόντια



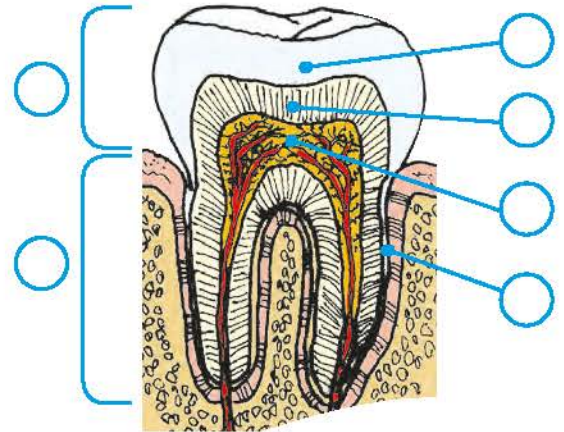
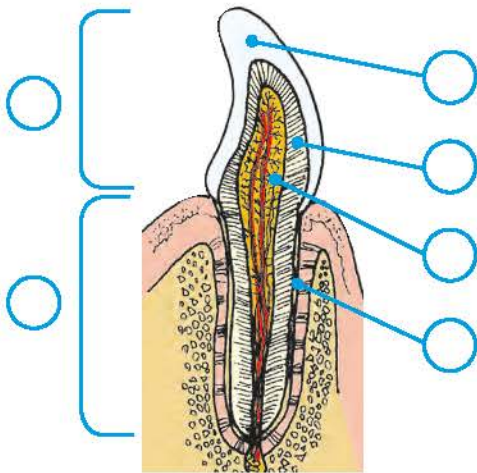
μόνιμα δόντια



Παρατήρησε προσεκτικά τα δόντια του παιδιού και του ενήλικα στις εικόνες. Ποιες διαφορές παρατηρείς ανάμεσα στα νεογιλά και στα μόνιμα δόντια;



Από τα δόντια μπορούμε να δούμε μόνο το εξωτερικό μέρος. Στις εικόνες μπορείς να δεις πώς είναι το εσωτερικό των δοντιών. Με τη βοήθεια της δασκάλας ή του δασκάλου σου συμπλήρωσε στα κουτάκια τις ονομασίες από τα μέρη του δοντιού.



1
Το τμήμα του δοντιού που βλέπουμε.

2
Το τμήμα του δοντιού που είναι σφηνωμένο μέσα στα ούλα.

αποτελείται από...

3
Λευκή, σκληρή ουσία που καλύπτει το τμήμα του δοντιού που βλέπουμε.

4
Βρίσκεται ανάμεσα στην αδαμαντίνη ή την οστεΐνη και τον πολφό.

5
Ουσία που καλύπτει το τμήμα του δοντιού που είναι σφηνωμένο μέσα στα ούλα.

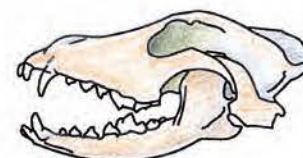
και στο εσωτερικό...

6
Μαλακή ουσία, στην οποία βρίσκονται τα αιμοφόρα αγγεία και τα νεύρα.

**Συμπέρασμα**


**ΕΡΓΑΣΙΕΣ ΓΙΑ ΤΟ ΣΠΙΤΙ**

1. Στα σκίτσα βλέπεις τα δόντια δύο διαφορετικών ζώων. Ποιο ζώο είναι φυτοφάγο και ποιο σαρκοφάγο; Μπορείς να εξηγήσεις την απάντησή σου;



2. Λύσε το σταυρόλεξο

1. Το εσωτερικό του δοντιού, στο οποίο βρίσκονται τα αιμοφόρα αγγεία και τα νεύρα.
2. Περιβάλλει εξωτερικά τη ρίζα.
3. Το τμήμα του δοντιού που βρίσκεται μέσα στα ούλα.
4. Βρίσκονται μέσα στον πολφό.
5. Περιβάλλει εξωτερικά τη μύλη.
6. Βρίσκεται ανάμεσα στον πολφό και την αδαμαντίνη ή την οσσεΐνη.
7. Το τμήμα του δοντιού που βλέπουμε.



3. Η επίσκεψη στον οδοντίατρο είναι απαραίτητη μόνον όταν πονούν τα δόντια μας;

