


# epanaliptiko\_pasxa

Επαναληπτικό διακοπών Πάσχα



Ασκήσεις Γλώσσας

1. Κάνε τη σωστή αντιστοίχιση :

[1] _____ Στο κέικ που έκανα με τον πατέρα μου βάλουμε αλεύρι και ζάχαρη και κακάο και καρύδια και σταφίδες.	A) Πολυσύνδετο σχήμα
[2] _____ Έβαλα στην τσάντα τα τετράδια, τα βιβλία, την κασετίνα και ήμουν έτοιμος	B) Ασύνδετο Σχήμα

2. Κάνε τη σωστή αντιστοίχιση :

[1] _____ Έβαλα στην τσάντα τα τετράδια, τα βιβλία, την κασετίνα και ήμουν έτοιμος	A) Πολυσύνδετο σχήμα
[2] _____ Στο κέικ που έκανα με τον πατέρα μου βάλουμε αλεύρι και ζάχαρη και κακάο και καρύδια και σταφίδες.	B) Ασύνδετο Σχήμα

3. Επίλεξε τις Προσωπικές Εγκλίσεις

- A) Μετοχή
- B) Απαρέμφατο

- C) Οριστική
- D) Υποτακτική
- E) Προστακτική

4. Κάνε την αντιστοίχιση :

[1] _____ Όταν συναντήσω τρία σύμφωνα και από τα πρώτα δύο <b>δεν αρχίζει ελληνική λέξη :</b>	A) <b>Τα σύμφωνα δε χωρίζονται</b> π.χ. α-στροναύτης (στρατιώτης),
[2] _____ Τα δίψηφα φωνήεντα, οι δίφθογγοι και τα αυ και ευ	B) <b>Τα σύμφωνα δε χωρίζονται</b> π.χ. υποδεχόμε- <b>στε</b> (στάρι), πα- <b>τρίδα</b> ( <b>τρέφομαι</b> ), κο- <b>σμοναύτη</b> ( <b>σμήνος</b> )
[3] _____ Όταν συναντήσω σε μια λέξη δύο συνεχόμενα σύμφωνα από τα οποία <b>δεν αρχίζει ελληνική λέξη :</b>	C) Στον συλλαβισμό λογαριάζονται ως ένα φωνήεν, π.χ. <b>μοιά</b> -σει, <b>πιο</b> .
[4] _____ Όταν συναντήσω σε μια λέξη δύο συνεχόμενα σύμφωνα και από αυτά <b>αρχίζει ελληνική λέξη :</b>	D) <b>Τα σύμφωνα χωρίζονται</b> π.χ. Ατ-λαντίς, περισ-σότερο
[5] _____ Όταν συναντήσω τρία σύμφωνα και από τα πρώτα δύο <b>αρχίζει ελληνική λέξη :</b>	E) <b>Τα σύμφωνα χωρίζονται</b> και το πρώτο πάει με το προηγούμενο φωνήεν π.χ. άν- <b>θρωπος</b>

5. Αναγνώρισε τις εγκλίσεις στα ρήματα του κειμένου :

Ο βασιλιάς προσπαθεί [1]\_\_\_\_\_ να μαντέψει  
 [2]\_\_\_\_\_τη δουλειά που κάνει  
 [3]\_\_\_\_\_καθένα παιδί. Αν βρει  
 [4]\_\_\_\_\_όλες τις δουλειές, πετιέται  
 [5]\_\_\_\_\_ξαφνικά και κυνηγάει  
 [6]\_\_\_\_\_τα παιδιά. Όποιο παιδί πιάσει  
 [7]\_\_\_\_\_, αυτό γίνεται  
 [8]\_\_\_\_\_ο νέος βασιλιάς.

[1]	A) ΥΠΟΤΑΚΤΙΚΗ ΑΟΡΙΣΤΟΥ B) ΟΡΙΣΤΙΚΗ ΕΝΕΣΤΩΤΑ C) ΥΠΟΤΑΚΤΙΚΗ ΕΝΕΣΤΩΤΑ D) ΟΡΙΣΤΙΚΗ ΑΟΡΙΣΤΟΥ	[5]	A) ΥΠΟΤΑΚΤΙΚΗ ΕΝΕΣΤΩΤΑ B) ΟΡΙΣΤΙΚΗ ΑΟΡΙΣΤΟΥ C) ΥΠΟΤΑΚΤΙΚΗ ΑΟΡΙΣΤΟΥ D) ΟΡΙΣΤΙΚΗ ΕΝΕΣΤΩΤΑ
[2]	A) ΥΠΟΤΑΚΤΙΚΗ ΑΟΡΙΣΤΟΥ B) ΥΠΟΤΑΚΤΙΚΗ ΕΝΕΣΤΩΤΑ C) ΟΡΙΣΤΙΚΗ ΑΟΡΙΣΤΟΥ D) ΟΡΙΣΤΙΚΗ ΕΝΕΣΤΩΤΑ	[6]	A) ΥΠΟΤΑΚΤΙΚΗ ΑΟΡΙΣΤΟΥ B) ΥΠΟΤΑΚΤΙΚΗ ΕΝΕΣΤΩΤΑ C) ΟΡΙΣΤΙΚΗ ΕΝΕΣΤΩΤΑ D) ΟΡΙΣΤΙΚΗ ΑΟΡΙΣΤΟΥ
[3]	A) ΥΠΟΤΑΚΤΙΚΗ ΑΟΡΙΣΤΟΥ B) ΥΠΟΤΑΚΤΙΚΗ ΕΝΕΣΤΩΤΑ C) ΟΡΙΣΤΙΚΗ ΑΟΡΙΣΤΟΥ D) ΟΡΙΣΤΙΚΗ ΕΝΕΣΤΩΤΑ	[7]	A) ΟΡΙΣΤΙΚΗ ΕΝΕΣΤΩΤΑ B) ΥΠΟΤΑΚΤΙΚΗ ΑΟΡΙΣΤΟΥ C) ΟΡΙΣΤΙΚΗ ΑΟΡΙΣΤΟΥ D) ΥΠΟΤΑΚΤΙΚΗ ΕΝΕΣΤΩΤΑ

[4]	A) ΟΡΙΣΤΙΚΗ ΕΝΕΣΤΩΤΑ B) ΥΠΟΤΑΚΤΙΚΗ ΑΟΡΙΣΤΟΥ C) ΟΡΙΣΤΙΚΗ ΑΟΡΙΣΤΟΥ D) ΥΠΟΤΑΚΤΙΚΗ ΕΝΕΣΤΩΤΑ	[8]	A) ΥΠΟΤΑΚΤΙΚΗ ΑΟΡΙΣΤΟΥ B) ΟΡΙΣΤΙΚΗ ΑΟΡΙΣΤΟΥ C) ΟΡΙΣΤΙΚΗ ΕΝΕΣΤΩΤΑ D) ΥΠΟΤΑΚΤΙΚΗ ΕΝΕΣΤΩΤΑ
-----	--	-----	--

**6. Συμπλήρωσε τα κενά έτσι ώστε οι προτάσεις να δείχνουν το μέλλον :**

Φύγαμε από το σπίτι νωρίς σήμερα το πρωί.

[1]\_\_\_\_\_ από το σπίτι νωρίς [2]\_\_\_\_\_ το πρωί.

Εχθές όλη μέρα διάβαζα για το διαγώνισμα της Γλώσσας.

[3]\_\_\_\_\_ όλη μέρα [4]\_\_\_\_\_ για το διαγώνισμα της Γλώσσας.

Την προηγούμενη εβδομάδα φυτέψαμε λουλούδια στον κήπο μας.

Την [5]\_\_\_\_\_ εβδομάδα [6]\_\_\_\_\_ λουλούδια στον κήπο μας.

**Ασκήσεις Μαθηματικών**

**7. Προσθέτω και αφαιρώ δεκαδικούς αριθμούς :**

$$36,23 + 45,01 + 12 = [1]_____$$

$$12,78 + 9,54 + 5,009 = [2]_____$$

$$134,87 - 12,99 = [3]_____$$

$$0,722 - 0,033 = [4]_____$$

$$65,98 + 36,12 + 1,003 = [5]_____$$

$$187,3 - 18,45 = [6]_____$$

**8. Πολλαπλασιάζω και διαιρώ δεκαδικούς αριθμούς :**

187,23 X 3,68 Γράψε το δεύτερο μερικό γινόμενο : [1]\_\_\_\_\_ και το αποτέλεσμα

[2]\_\_\_\_\_

23,45 X 12,96 Γράψε το πρώτο μερικό γινόμενο [3]\_\_\_\_\_ και το αποτέλεσμα

[4]\_\_\_\_\_

132,58 : 12,4 Γράψε το υπόλοιπο της διαίρεσης [5]\_\_\_\_\_ και το αποτέλεσμα [6]\_\_\_\_\_

12,2 : 5,23 = Γράψε το υπόλοιπο της διαίρεσης (μέχρι τα εκατοστά) [7]\_\_\_\_\_ και το αποτέλεσμα

[8]\_\_\_\_\_

**9. Λύσε το πρόβλημα και απάντησε στις ερωτήσεις :**

Ένα κατάστημα προσφέρει το ίδιο λάδι σε συσκευασία των 5 λίτρων με τιμή 27,50 και σε συσκευασία των 15 λίτρων με τιμή 78,75. Σε ποια συσκευασία το λάδι κοστίζει λιγότερο ; Αν πάρω τη συσκευασία με τη φθηνότερη τιμή ανά λίτρο, πόσα ευρώ θα πάρω ρέστα αν δώσω 1 κατοστάρικο ;

Το λάδι της συσκευασίας των 5 λίτρων κοστίζει [1]\_\_\_\_\_ ευρώ το λίτρο.

Το λάδι της συσκευασίας των 15 λίτρων κοστίζει [2]\_\_\_\_\_ ευρώ το λίτρο

Τα ρέστα μου θα είναι [3]\_\_\_\_\_ ευρώ.

10. Βρες τον σωστό αριθμό των τελειών :

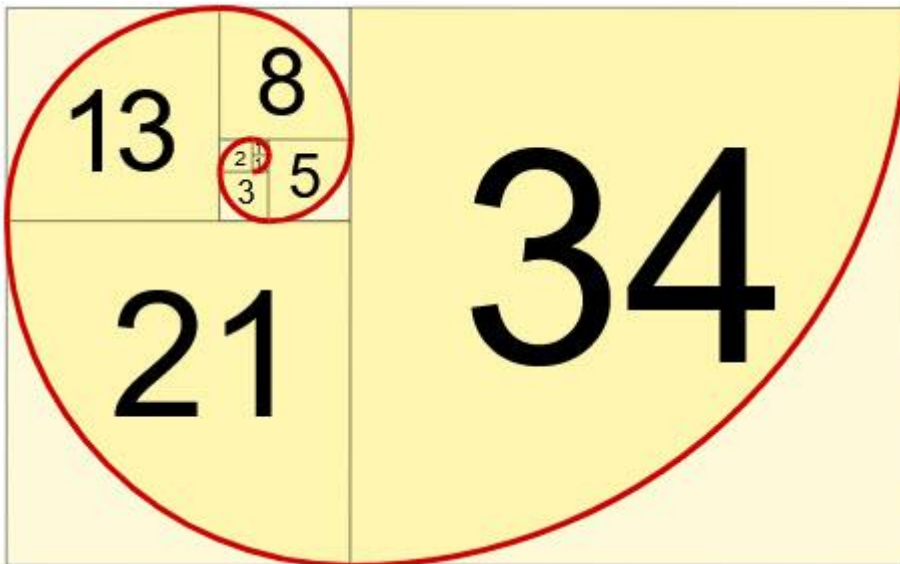


Το επόμενο τρίγωνο θα έχει [1]\_\_\_\_\_ τελείες.

Το δέκατο τρίγωνο θα έχει [2]\_\_\_\_\_ τελείες.

Το 60ό τρίγωνο θα έχει [3]\_\_\_\_\_ τελείες

11. Επίλεξε τον επόμενο αριθμό κάθε ακολουθίας :



Στην ακολουθία αριθμών 3, 5, 8, 13, 21, 34, 55, 89 ο επόμενος αριθμός είναι : [1]\_\_\_\_\_

Στην ακολουθία Φιμπονάτσι ο δωδέκατος αριθμός είναι ο [2]\_\_\_\_\_.

[1]	A) 144 B) 77 C) 189	[2]	A) 89 B) 91 C) 86
-----	---------------------------	-----	-------------------------

12. Συμπλήρωσε τα κενά σύροντας από κάτω τις λέξεις που ταιριάζουν :

Η [1]\_\_\_\_\_ ενός σχεδίου ή μιας εικόνας εκφράζει τη [2]\_\_\_\_\_ ανάμεσα στην [3]\_\_\_\_\_ δύο σημείων του τελικού σχεδίου ή της τελικής εικόνας και στην αντίστοιχη απόσταση στο αρχικό σχέδιο ή στην αρχική εικόνα. Για να μεγεθύνουμε ένα σχέδιο ή μια εικόνα, [4]\_\_\_\_\_ κάθε απόσταση μεταξύ δύο σημείων του σχεδίου ή της εικόνας με τον ίδιο αριθμό. Για να σμικρύνουμε ένα σχέδιο ή μια εικόνα, [5]\_\_\_\_\_ κάθε απόσταση μεταξύ δύο σημείων του σχεδίου ή της εικόνας με τον ίδιο αριθμό.

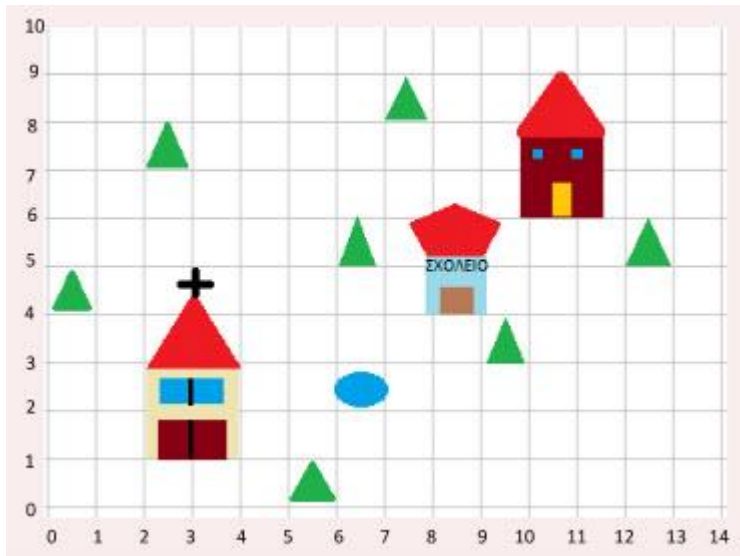
A) σχέση	D) πολλαπλασιάζουμε
----------	---------------------

- |             |              |
|-------------|--------------|
| B) απόσταση | E) διαιρούμε |
| C) κλίμακα  |              |

**13. Να σχεδιάσετε ένα ευθύγραμμο τμήμα με μήκος 10 μέτρα σε κλίμακα 1/200 :**

Το ευθύγραμμο τμήμα πρέπει να έχει μήκος [1]\_\_\_\_\_ εκατοστά.

**14. Βρες τη θέση :**



Η κάτω αριστερή γωνία του σπιτιού βρίσκεται στη θέση ([1]\_\_\_\_\_)

Ασκήσεις Ιστορίας

**15. Τα στάδια της Εικονομαχίας**

**Βάλε τα πρόσωπα και τα γεγονότα στη σωστή χρονολογική σειρά :**

- A) \_\_\_\_\_ Ζ΄ Οικουμενική Σύνοδος - Αυτοκράτειρα Ειρήνη η Αθηναία
- B) \_\_\_\_\_ Αυτοκράτορας Κωνσταντίνος Ε΄
- C) \_\_\_\_\_ Αυτοκράτορας Λέων Ε΄ ο Αρμένιος
- D) \_\_\_\_\_ Αυτοκράτορας Λέων Γ΄ ο Ίσαυρος
- E) \_\_\_\_\_ Ιωάννης Δαμασκηνός
- F) \_\_\_\_\_ Σύνοδος του 843 - Αυτοκράτειρα Θεοδώρα

**16. Συμπλήρωσε τα κενά σύροντας από κάτω τις λέξεις στις σωστές θέσεις :**

Και οι δυο πλευρές ήταν ανυποχώρητες και υποστήριζαν με [1]\_\_\_\_\_ τις απόψεις τους.

Ο διχασμός αυτός ονομάστηκε [2]\_\_\_\_\_, κράτησε έναν περίπου αιώνα και είχε δυσάρεστες [3]\_\_\_\_\_ για όλους :

Στη διάρκειά του πολλοί άνθρωποι έχασαν τη ζωή τους και άλλοι φυλακίστηκαν ή [4]\_\_\_\_\_.

Ναοί και [5]\_\_\_\_\_ έκλεισαν και πολλές εικόνες, [6]\_\_\_\_\_ και

[7]\_\_\_\_\_ καταστράφηκαν. [8]\_\_\_\_\_ ακόμη οι σχέσεις ανάμεσα

στο Βυζάντιο και τη [9] \_\_\_\_\_, η οποία τάχτηκε με το μέρος των [10] \_\_\_\_\_.

A) εικονολατρών	F) Δυτική Εκκλησία
B) μοναστήρια	G) εξορίστηκαν
C) Διαταράχτηκαν	H) έργα τέχνης
D) συνέπειες	I) ψηφιδωτά
E) φανατισμό	J) Εικονομαχία

**17. Επίλεξε τους αυτοκράτορες που δεν ανήκαν στη Μακεδονική Δυναστεία :**

- A) Βασίλειος Α΄
- B) Λέων ΣΤ΄ ο Σοφός
- C) Μανουήλ Α΄ Κομνηνός
- D) Κωνσταντίνος Ε΄ Ίσαυρος
- E) Ιωάννης Τσιμισκής
- F) Νικηφόρος Φωκάς
- G) Μιχαήλ Γ΄

**18. Κάνε τις αντιστοιχίσεις :**

[1] _____ Νεαρές	A) Προστασία των μικροϊδιοκτητών και των ελεύθερων γεωργών από τους δυνατούς.
[2] _____ Εκκλησία	B) Πρόσθεσαν νέα από τις απελευθερωμένες και τις ακριτικές περιοχές.
[3] _____ Θέματα	C) Επανάφεραν την ηρεμία.
[4] _____ Νόμος του Αλληλέγγυου	D) Νόμοι που απέβλεπαν στον περιορισμό της μεγάλης γαιοκτησίας.
[5] _____ Νομοθεσία	E) Επικαιροποίηση - Νέοι Νόμοι

**19. Συμπλήρωσε τα κένα σύροντας τις λέξεις από κάτω στη σωστή θέση :**

Με τους νόμους αυτούς οι Μακεδόνες αυτοκράτορες επέβαλαν ή επέτυχαν τα εξής:

- Όταν πουλιόταν ένα κομμάτι κοινοτικής γης, να προτιμούνται ως αγοραστές οι [1] \_\_\_\_\_ και οι [2] \_\_\_\_\_.
- Να αποδίδονται τα χωράφια που είχαν [3] \_\_\_\_\_ οι δυνατοί στους προηγούμενους φτωχούς ιδιοκτήτες τους χωρίς [4] \_\_\_\_\_.
- Να απαγορεύεται η πώληση και η αγορά [5] \_\_\_\_\_. Όποιος διέθετε τέτοια κτήματα ήταν υποχρεωμένος να [6] \_\_\_\_\_.
- Να περιοριστεί η [7] \_\_\_\_\_ της εκκλησιαστικής περιουσίας, και
- Να πληρώνουν οι δυνατοί τους φόρους [8] \_\_\_\_\_ (1002), μια υποχρέωση που παλιότερα την [9] \_\_\_\_\_ την αναλάμβανε η κοινότητα συλλογικά (αλληλέγγυον).

A) αποζημίωση	F) κοινότητα
---------------	--------------

B) συγγενείς	G) στρατιωτικών κτημάτων
C) αρπάξει	H) των φτωχών του χωριού
D) αύξηση	I) γείτονες
E) στρατεύεται	

**20. Συμπλήρωσε τα κενά σύροντας από κάτω τις λέξεις στη σωστή θέση :**

Στο Πανεπιστήμιο της Μαγναύρας δίδαξαν ονομαστοί καθηγητές, όπως ο Λέων ο [1]\_\_\_\_\_, ο Πατριάρχης [2]\_\_\_\_\_, ο Ιωάννης [3]\_\_\_\_\_ και ο φωτιστής των [4]\_\_\_\_\_ Κωνσταντίνος - Κύριλλος. Όλα σχεδόν τα μαθήματα γίνονταν στην [5]\_\_\_\_\_ γλώσσα και στην έδρα της Φιλοσοφίας διδάσκονταν οι αρχαίοι Έλληνες συγγραφείς. Το κράτος στήριζε [6]\_\_\_\_\_ την εκπαίδευση πληρώνοντας τους [7]\_\_\_\_\_ και δίνοντας [8]\_\_\_\_\_ στους επιμελείς φοιτητές.

A) Φώτιος	E) υποτροφίες
B) Μαθηματικός	F) οικονομικά
C) καθηγητές	G) ελληνική
D) Σλάβων	H) Γραμματικός

**21. Τα χαρακτηριστικά των βυζαντινών σπιτιών της υπαίθρου ήταν :  
Κάνε τις σωστές επιλογές :**

- A) Είχαν υπόγεια και ήταν πολυώροφα.
- B) Στο κέντρο του οικισμού, του χωριού ή της κωμόπολης υπήρχε η πλατεία και η εκκλησία.
- C) Ήταν χτισμένα σε πλαγιές λόφων και κοντά σε ποτάμια.
- D) Τα πανηγύρια τους τα έκαναν έξω από το χωριό.

**22. Επίλεξε Σωστό ή Λάθος από τη λίστα.**

Η αναστήλωση των εικόνων γιορτάζεται την Κυριακή της Ορθοδοξίας [1]\_\_\_\_\_

Οι εικονολάτρες μάχονταν υπέρ της λατρείας των εικόνων [2]\_\_\_\_\_

Η εικονομαχία έληξε με αιματηρό τρόπο το 843 μ.Χ. [3]\_\_\_\_\_

Οι Ίσαυροι αυτοκράτορες υποχρέωσαν του μοναχούς και τους κληρικούς να στρατεύονται [4]\_\_\_\_\_

Πολλές εικόνες και εκκλησιαστικά έργα τέχνης καταστράφηκαν κατά την περίοδο της εικονομαχίας [5]\_\_\_\_\_

Η αυτοκράτειρα Θεοδώρα συγκάλεσε την ΣΤ΄ Οικουμενική Σύνοδο [6]\_\_\_\_\_

[1]	A) Σωστό B) Λάθος	[4]	A) Λάθος B) Σωστό
[2]	A) Λάθος B) Σωστό	[5]	A) Σωστό B) Λάθος

[3]	A) Σωστό B) Λάθος	[6]	A) Σωστό B) Λάθος
-----	----------------------	-----	----------------------

Ασκήσεις Γεωγραφίας

### 23. Επίλεξε Σωστό ή Λάθος από τη λίστα.

Χλωρίδα είναι η ποικιλία φυτών σε μια περιοχή [1]\_\_\_\_\_

Ενδημικά είναι τα φυτά που φυτρώνουν αποκλειστικά σε μια περιοχή[2]\_\_\_\_\_

Η ελληνική πανίδα είναι φτωχή αφού στην Ελλάδα συναντάμε πολύ λίγα ζώα [3]\_\_\_\_\_

Πολλά ζώα είναι υπό εξαφάνιση εξαιτίας της ασυνείδητης διαχείρισης του περιβάλλοντος από τον άνθρωπο [4]\_\_\_\_\_

Η ποικιλία του κλίματος και των γεωμορφολογικών στοιχείων στην Ελλάδα έχει ως αποτέλεσμα την ύπαρξη διαφορετικών οργανισμών σε κάθε περιοχή[5]\_\_\_\_\_

Η πλούσια χλωρίδα και πανίδα οφείλονται στη γεωγραφική θέση της Ελλάδας [6]\_\_\_\_\_

Το σύνολο των φυτικών οργανισμών μιας περιοχής αποτελούν την πανίδα [7]\_\_\_\_\_

[1]	A) Σωστό B) Λάθος	[5]	A) Σωστό B) Λάθος
[2]	A) Σωστό B) Λάθος	[6]	A) Σωστό B) Λάθος
[3]	A) Λάθος B) Σωστό	[7]	A) Σωστό B) Λάθος
[4]	A) Σωστό B) Λάθος		

### 24. Κάνε τις αντιστοιχίες :

[1] _____ Ποώδη φυτά	A) Πλούσια χλωρίδα
[2] _____ Μεσογειακή βλάστηση	B) Συχνές βροχοπτώσεις
[3] _____ Ζώνη ψυχρόβιων κωνοφόρων	C) Κατά μήκος των ακτών της Ελλάδας
[4] _____ Αιτία πυκνής βλάστησης	D) Ορεινές περιοχές Ελλάδας
[5] _____ Βλάστηση	E) Ανάπτυξη φυτικών οργανισμών
[6] _____ Μεγάλη ποικιλία βλάστησης	F) Αλπική βλάστηση

### 25. Κάνε τις αντιστοιχίες :

Όλοι οι φυτικοί οργανισμοί μιας περιοχής αποτελούν ένα οικοσύστημα [1]\_\_\_\_\_



Τα βιοτικά στοιχεία μιας περιοχής είναι οι φυτικοί και ζωικοί οργανισμοί και το νερό [2]\_\_\_\_\_

Στην Ελλάδα συναντάμε ορεινά, πεδινά και θαλάσσια οικοσυστήματα [3]\_\_\_\_\_

Τα βιοτικά και αβιοτικά στοιχεία που χρησιμοποιεί ο άνθρωπος για να καλύψει τις ανάγκες τους ονομάζονται σπόροι. [4]\_\_\_\_\_

Η Ελλάδα διαθέτει δύο μεγάλα θαλάσσια πάρκα: της Αλοννήσου και της Ζακύνθου [5]\_\_\_\_\_

Το νερό, το χώμα, ο αέρας είναι αβιοτικά στοιχεία [6]\_\_\_\_\_

Τα ζώα υπό εξαφάνιση προστατεύονται στα εθνικά πάρκα [7]\_\_\_\_\_

[1]	A) Λάθος B) Σωστό	[5]	A) Σωστό B) Λάθος
[2]	A) Λάθος B) Σωστό	[6]	A) Λάθος B) Σωστό
[3]	A) Σωστό B) Λάθος	[7]	A) Λάθος B) Σωστό